

TÉCNICO DE ENFERMAGEM

1. Esta prova é constituída de um caderno de testes e uma folha de respostas. O caderno de testes é composto por: 30 questões, sendo 10 questões de Língua Portuguesa, 10 questões de Raciocínio Lógico e 10 questões de Conhecimentos Específicos.
2. Havendo falta de páginas ou falhas de impressão, alerte o fiscal de sala. A prova é estritamente individual, sendo proibido qualquer tipo de consulta. A interpretação da prova faz parte da avaliação. Os fiscais não poderão responder a perguntas dessa natureza.
3. Utilize somente caneta de tinta azul ou preta para assinalar ou marcar as suas respostas, sendo que o preenchimento das folhas de respostas é de inteira e exclusiva responsabilidade do candidato. Será fornecida apenas uma folha de respostas para cada candidato, não havendo possibilidade de substituição em caso de rasuras ou anotações inadequadas.
4. Durante todo o tempo em que o candidato se encontrar na sala de aula, deverá manter-se em silêncio, não podendo levantar-se ou comunicar-se com outros candidatos. Caso o candidato necessite utilizar-se do banheiro ou bebedouro, deverá levantar o braço e aguardar o fiscal de sala.
5. Poderá ser excluído do Processo Seletivo o candidato que: não apresentar um dos documentos exigidos no Edital; se ausentar da sala de provas sem o acompanhamento do fiscal, antes de decorrer **01 (uma) hora** de duração da prova; for surpreendido durante a realização das provas em comunicação com outras pessoas; estiver utilizando calculadoras, livros, notas ou impressos não permitidos; estiver portando ou fazendo uso de qualquer tipo de equipamento eletrônico, de comunicação ou tentando usar meios ilegais para a execução da prova.
6. Coloque sobre o canto superior direito da carteira seu documento de identidade. O fiscal de sala fará a conferência deste documento.
7. Após o término de sua prova e decorrido o prazo mínimo exigido:
 - Levante o braço e aguarde o fiscal de sala, que irá recolher a sua folha de respostas;
 - Após ser atendido pelo fiscal, por fineza, deixe a sala de aula em silêncio.
8. Não esqueça de entregar sua folha de respostas e assinar a lista de presença.
9. O candidato do Processo Seletivo não poderá ficar com seu respectivo caderno de prova após o término das provas.
10. A prova terá duração de **03 (três) horas**.

BOA PROVA!

LÍNGUA PORTUGUESA

DESEJOS DE PAZ

Se perguntarmos a uma pessoa recém-casada qual é o bem que mais deseja na família, provavelmente responderá:

– O amor.

Se fizermos a mesma pergunta a um homem ou a uma mulher já maduros, com longos anos de convivência familiar, é provável que nos responda:

– A paz.

Nem todos dirão isso, certamente, mas muitos, sim. É que os anos de convívio entre marido e mulher, e entre pais e filhos, vão evidenciando, com luminosa clareza, que a paz é um bem inestimável, tanto mais precioso quanto mais frágil e difícil é de conseguir e de conservar.

– Paz! Pelo amor de Deus, quero paz lá em casa! – dizem alguns, com gemidos de naufrago que já não agüenta mais segurar-se numa tábua no meio da tormenta.

Têm ampla experiência das agruras da “guerra”: desavenças, incompreensões, brigas, maus humores, recriminações, injustiças, teimosias, desafios, reclamações monótonas... A esses, a harmonia parece-lhes um sonho que lhes escapou das mãos há muito tempo, como se fosse um balão perdido no espaço, sem meio algum de o recuperar.

A harmonia familiar é um ideal que essas pessoas entristecidas amam, com um amor ardente e dolorido, unido à convicção amarga de que a paz familiar estável não existe na terra ou, caso exista, é uma loteria que não os contemplou. [...]

Disponível em: <www.padrefaus.org> Acesso em julho, 2014

1. Assinale a afirmativa CORRETA de acordo com o texto acima:

- a) A harmonia familiar não é uma solução ideal para que as pessoas entristecidas amem.
- b) Desavenças, incompreensões, brigas, maus humores, recriminações, injustiças, teimosias, desafios, reclamações monótonas, entre outros, contribuem positivamente para a paz na família.
- c) Com os anos de convívio da família é evidenciado que a paz é um bem inestimável.
- d) Nenhuma das afirmativas estão corretas.

2. Assinale a frase em que a concordância verbal não está de acordo com a norma culta.

- a) Faz anos que não vou ao parque.
- b) Ocorreu, durante as gravações, alguns erros.
- c) Jamais houve músicas como os da década de cinquenta.
- d) Esse foi um dos jogos de futebol que mais geraram prejuízo.

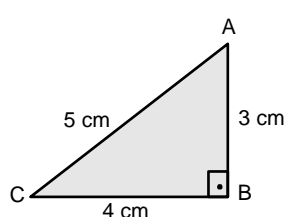
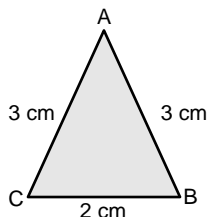
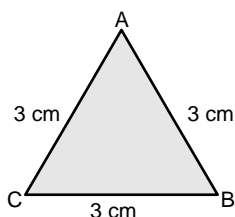
3. No trecho “a paz é um bem inestimável”, o termo “paz” exerce a função sintática de:

- a) Adjetivo
- b) Advérbio
- c) Substantivo
- d) Predicado

4. **Qual das alternativas abaixo apresenta o sinônimo de “convicção”?**
- a) convencimento
 - b) indecisão
 - c) incerteza
 - d) tristeza
5. **Assinale a alternativa em que não haja erro de concordância.**
- a) Devem haver muitos técnicos interessados no jogador de futebol.
 - b) Já fazem cinco anos que não faço provas para processo seletivo.
 - c) Precisam-se de novos empregados na empresa.
 - d) Vendem-se muitos carros no interior nesta época do ano.
6. **Considere os períodos a seguir:**
- I- Já comparecemos a esse *show*.
 - II- Prefiro teatro a cinema.
 - III- O casal foi no teatro hoje.
- A regência verbal está de acordo com a norma culta em
- a) I e II.
 - b) I e III.
 - c) II e III.
 - d) I, II e III.
7. **Assinale a alternativa em que a concordância nominal não está de acordo com a norma culta.**
- a) A exibição do jogo de beisebol começa ao meio-dia e meia.
 - b) Achei estranha a temática do teatro.
 - c) É vedado a entrada de menores de idade neste cinema.
 - d) A jovem ficou meio irritada com a presença dos jornalistas.
8. **Passe a oração I para a voz passiva e assinale a alternativa que contém a forma verbal adequada à oração II.**
- I- Muitos cinematográficos formaram a indústria do cinema.
 - II- A indústria do cinema _____ por muitos profissionais.
- a) é formada
 - b) foi formada
 - c) tinha sido formada
 - d) era formada
9. **Assinale a alternativa em que há erro(s) de acentuação gráfica.**
- a) prejuízo, coroinha, biquíni
 - b) útil, tupi, caju
 - c) íterim, juiz, gratuito
 - d) léu, rubrica, cadáver
10. **Assinale a alternativa que completa, de acordo com a norma culta, as lacunas dos períodos a seguir:**
- I- A empresa surgiu ____ mais de vinte anos.
 - II- Retornarei daqui ____ trinta minutos.
- a) há – há
 - b) há – a
 - c) a – há
 - d) a – a

RACIOCÍNIO LÓGICO

11. Uma piscina mede $5\text{m} \times 5\text{m} \times 2\text{m}$. Se 1m^3 é igual a 1000 litros, podemos afirmar que a capacidade máxima da piscina é de:
a) 10 000 litros b) 17 000 litros c) 50 000 litros d) 170 000 litros
12. Um campo de futebol mede $200\text{m} \times 80\text{m}$. Se para plantar gramas foram compradas caixas com 50m^2 cada caixa, quantas caixas serão necessárias comprar para cobrir todo o campo?
a) 200 caixas b) 208 caixas c) 212 caixas d) 320 caixas
13. A solução da equação, $2x + 2 \cdot (x - 8) = 2x$ é igual a:
a) 0 b) 1 c) 5 d) 8
14. O basquete está presente no Pan-americano desde a primeira edição e é um dos esportes coletivos que mais atraem o público na competição. O Brasil nunca passou em branco, sempre alcançou o pódio em pelo menos uma das categorias, feminina ou masculina. Em um jogo de treino, Celeste fez 20 arremessos e acertou 14, e Olimpia fez 16 arremessos e acertou 10. Representando o rendimento por uma fração na qual o numerador é o número de acertos, e o denominador é o número de arremessos, podemos afirmar que:
a) O rendimento de Celeste foi melhor do que o de Olimpia.
b) O rendimento de Olimpia foi melhor do que o de Celeste.
c) As duas tiveram o mesmo rendimento.
d) Ariani teve rendimento que representa o dobro de Olimpia.
15. Uma TV é medida em polegadas, que representa a medida da diagonal de sua tela. Considerando que uma polegada tenha 25,4mm, podemos afirmar que uma TV de 40 polegadas tem sua diagonal medindo:
a) Mais de um metro e menos de um metro e meio
b) Mais de um metro e meio e menos de dois metros
c) Menos de um metro
d) Exatamente um metro
16. Classificando os seguintes triângulos quanto aos lados teremos na ordem:



- a) Equilátero , isósceles e escaleno
b) Isósceles , escaleno e equilátero
c) Escaleno , equilátero e isósceles
d) Isósceles , equilátero e escaleno

17. Em uma pesquisa sobre obesidade seis pessoas foram avaliadas. Elas tinham 56kg, 57kg, 65kg, 68kg, 73kg e 105kg . Calculando a média entre essas pessoas, verificou-se que ela representava o peso ideal. Das seis pessoas, quantas têm peso inferior à média?
- a) 3 b) 4 c) 5 d) 6
18. O número – 16 é raiz da equação:
- a) $3x - 2 = x - 34$
b) $5(x - 1) = 10 - 2(x + 3)$
c) $\frac{x}{2} + 2 = 0$
d) $2(x + 1) = 5$
19. O valor de x na equação $2x - 5x - 20 = 6x - 12 - 5$ é:
- a) - 4 b) -2 c) 1 d) 4
20. Dispondo de 80 litros de um determinado líquido e de garrafas de $\frac{2}{3}$ de litro cada, quantas garrafas poderiam ser enchidas?
- a) 40 b) 50 c) 60 d) 120

CONHECIMENTOS ESPECÍFICOS

21. Indique V para verdadeiro e F para falso e assinale a alternativa correta.

A respeito do Aleitamento Materno:

() Muitos hormônios estão envolvidos no desenvolvimento mamário e lactação como: estrógeno, progesterona, prolactina, lactogênio placentário, hormônio do crescimento, insulina, corticosteróide, hormônio tiroidiano. Prolactina é o principal hormônio envolvido na produção de leite pela glândula mamária.

() O leite materno é um fluido semiviscoso, espécie- específico, que corresponde em parte as necessidades nutricionais do recém- nascido, portanto frequentemente dever ser completado com sucos e chás para suplementar água, vitaminas e sais minerais.

() Nos primeiros dias após o nascimento da criança, a glândula mamária secreta o colostro, líquido ralo, branco, em grande quantidade para atender as necessidades nutricionais pois o colostro tem baixo teor proteico.

- a) V-V-V
b) F-F-F
c) V-F-F
d) V-F-V

22. Para um paciente que pesa 70kg, qual o volume corrente máximo ideal?

- a) 2.000 ml
b) 1.500 ml
c) 1.000 ml
d) 840 ml

23. Qual via de administração esta descrita de forma incorreta?

- a) Intramuscular - no tecido muscular esquelético
b) Nasal - dentro do nariz
c) Intravenosa ou IV - dentro de uma veia
d) Ocular - dentro do ouvido

- 24. O que é farmacologia?**
- Estudo científico das drogas e sua ação.
 - Estudo da farmácia
 - Estudo dos pacientes que usam drogas
 - Estudo da farmácia e dos fármacos.
- 25. Em relação IMC (Índice de Massa Corpórea) podemos considerar como FALSO:**
- Os dois índices antropométricos que são largamente reconhecidos por sua capacidade de predizer o risco de doenças são o IMC e o RCQ (Relação Cintura Quadril).
 - Mesmo o IMC não representando a composição corporal de indivíduos, pela facilidade de sua mensuração em campo e o fácil acesso aos dados de massa corporal e de estatura, é sugestivo o uso do IMC em estudos epidemiológicos; podendo ser ou não associados a outros dados de mensuração antropométrica.
 - O IMC pode também ser usado para estimar a gordura corporal e também como indicador do estado nutricional de grupos específicos.
 - A utilização do IMC justifica – se por ser de fácil investigação e interpretação sendo mais comumente usado no diagnóstico e classificação da obesidade.
- 26. Não é causa bacteriana de Rinite:**
- Influenza;
 - Sífilis;
 - Tuberculose;
 - Hanseníase.
- 27. São objetivos do banho pré-operatório:**
- () Promover o relaxamento do paciente
() Retirar pelos da tricotomia
() Cumprimento da rotina hospitalar
() Eliminar a oleosidade e o maior número de micro-organismos patogênicos da pele do paciente, para evitar contaminação durante a incisão cirúrgica da ferida pela flora microbiana natural da pele.
- V-V-V-V
 - F-F-F-F
 - F-F-F-V
 - V-F-F-V
- 28. Pode ser considerada causa ou fator precipitante de crise asmática, exceto:**
- Exercício Físico;
 - Umidade relativa do ar alta.
 - Inalação de pó de madeira;
 - Ansiedade
- 29. Durante o processo de morte, a responsabilidade da comunicação do óbito aos familiares é do(a):**
- Técnico(a) de enfermagem.
 - Enfermeiro(a).
 - Assistente social.
 - Médico(a).

- 30. Acerca da finalidade do protocolo assistencial, assinale a alternativa correta:**
- a) estrutura as anotações clínicas e exames de diagnóstico
 - b) fornece suporte aos relatórios de produção, desempenho e avaliação dos funcionários da instituição.
 - c) realiza a padronização dos materiais e equipamentos necessários à assistência.
 - d) dá suporte aos cuidados prestados.

