

TÉCNICO EM SAÚDE BUCAL

1. Esta prova é constituída de um caderno de testes e uma folha de respostas. O caderno de testes é composto por: 30 questões, sendo 10 questões de Língua Portuguesa, 10 questões de Raciocínio Lógico e 10 questões de Conhecimentos Específicos.
2. Havendo falta de páginas ou falhas de impressão, alerte o fiscal de sala. A prova é estritamente individual, sendo proibido qualquer tipo de consulta. A interpretação da prova faz parte da avaliação. Os fiscais não poderão responder a perguntas dessa natureza.
3. Utilize somente caneta de tinta azul ou preta para assinalar ou marcar as suas respostas, sendo que o preenchimento das folhas de respostas é de inteira e exclusiva responsabilidade do candidato. Será fornecida apenas uma folha de respostas para cada candidato, não havendo possibilidade de substituição em caso de rasuras ou anotações inadequadas.
4. Durante todo o tempo em que o candidato se encontrar na sala de aula, deverá manter-se em silêncio, não podendo levantar-se ou comunicar-se com outros candidatos. Caso o candidato necessite utilizar-se do banheiro ou bebedouro, deverá levantar o braço e aguardar o fiscal de sala.
5. Poderá ser excluído do Processo Seletivo o candidato que: não apresentar um dos documentos exigidos no Edital; se ausentar da sala de provas sem o acompanhamento do fiscal, antes de decorrer **01 (uma) hora e 30 (trinta) minutos** de duração da prova; for surpreendido durante a realização das provas em comunicação com outras pessoas; estiver utilizando calculadoras, livros, notas ou impressos não permitidos; estiver portando ou fazendo uso de qualquer tipo de equipamento eletrônico, de comunicação ou tentando usar meios ilegais para a execução da prova.
6. Coloque sobre o canto superior direito da carteira seu documento de identidade. O fiscal de sala fará a conferência deste documento.
7. Após o término de sua prova e decorrido o prazo mínimo exigido:
 - Levante o braço e aguarde o fiscal de sala, que irá recolher a sua folha de respostas;
 - Após ser atendido pelo fiscal, por fineza, deixe a sala de aula em silêncio.
8. Não esqueça de entregar sua folha de respostas e assinar a lista de presença.
9. O candidato do Processo Seletivo não poderá ficar com seu respectivo caderno de prova após o término das provas.
10. A prova terá duração de **03 (três) horas**.

DESEJOS DE PAZ

Se perguntarmos a uma pessoa recém-casada qual é o bem que mais deseja na família, provavelmente responderá:

– O amor.

Se fizermos a mesma pergunta a um homem ou a uma mulher já maduros, com longos anos de convivência familiar, é provável que nos responda:

– A paz.

Nem todos dirão isso, certamente, mas muitos, sim. É que os anos de convívio entre marido e mulher, e entre pais e filhos, vão evidenciando, com luminosa clareza, que a paz é um bem inestimável, tanto mais precioso quanto mais frágil e difícil é de conseguir e de conservar.

– Paz! Pelo amor de Deus, quero paz lá em casa! – dizem alguns, com gemidos de naufrago que já não agüenta mais segurar-se numa tábua no meio da tormenta.

Têm ampla experiência das agruras da “guerra”: desavenças, incompreensões, brigas, maus humores, recriminações, injustiças, teimosias, desafios, reclamações monótonas... A esses, a harmonia parece-lhes um sonho que lhes escapou das mãos há muito tempo, como se fosse um balão perdido no espaço, sem meio algum de o recuperar.

A harmonia familiar é um ideal que essas pessoas entristecidas amam, com um amor ardente e dolorido, unido à convicção amarga de que a paz familiar estável não existe na terra ou, caso exista, é uma loteria que não os contemplou. [...]

Disponível em: <www.padrefaus.org> Acesso em julho, 2014

1. Assinale a afirmativa CORRETA de acordo com o texto acima:

- a) A harmonia familiar não é uma solução ideal para que as pessoas entristecidas amem.
- b) Desavenças, incompreensões, brigas, maus humores, recriminações, injustiças, teimosias, desafios, reclamações monótonas, entre outros, contribuem positivamente para a paz na família.
- c) Com os anos de convívio da família é evidenciado que a paz é um bem inestimável.
- d) Nenhuma das afirmativas estão corretas.

2. Assinale a frase em que a concordância verbal não está de acordo com a norma culta.

- a) Faz anos que não vou ao parque.
- b) Ocorreu, durante as gravações, alguns erros.
- c) Jamais houve músicas como os da década de cinquenta.
- d) Esse foi um dos jogos de futebol que mais geraram prejuízo.

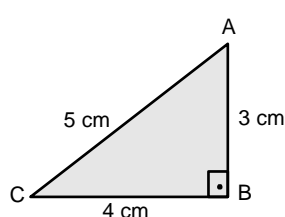
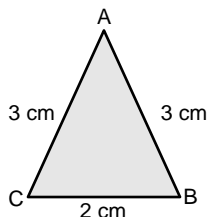
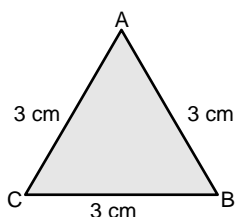
3. No trecho “a paz é um bem inestimável”, o termo “paz” exerce a função sintática de:

- a) Adjetivo
- b) Advérbio
- c) Substantivo
- d) Predicado

4. **Qual das alternativas abaixo apresenta o sinônimo de “convicção”?**
- a) convencimento
 - b) indecisão
 - c) incerteza
 - d) tristeza
5. **Assinale a alternativa em que não haja erro de concordância.**
- a) Devem haver muitos técnicos interessados no jogador de futebol.
 - b) Já fazem cinco anos que não faço provas para processo seletivo.
 - c) Precisam-se de novos empregados na empresa.
 - d) Vendem-se muitos carros no interior nesta época do ano.
6. **Considere os períodos a seguir:**
- I- Já comparecemos a esse *show*.
 - II- Prefiro teatro a cinema.
 - III- O casal foi no teatro hoje.
- A regência verbal está de acordo com a norma culta em
- a) I e II.
 - b) I e III.
 - c) II e III.
 - d) I, II e III.
7. **Assinale a alternativa em que a concordância nominal não está de acordo com a norma culta.**
- a) A exibição do jogo de beisebol começa ao meio-dia e meia.
 - b) Achei estranha a temática do teatro.
 - c) É vedado a entrada de menores de idade neste cinema.
 - d) A jovem ficou meio irritada com a presença dos jornalistas.
8. **Passe a oração I para a voz passiva e assinale a alternativa que contém a forma verbal adequada à oração II.**
- I- Muitos cinematográficos formaram a indústria do cinema.
 - II- A indústria do cinema _____ por muitos profissionais.
- a) é formada
 - b) foi formada
 - c) tinha sido formada
 - d) era formada
9. **Assinale a alternativa em que há erro(s) de acentuação gráfica.**
- a) prejuízo, coroinha, biquíni
 - b) útil, tupi, caju
 - c) íterim, juiz, gratuito
 - d) léu, rubrica, cadáver
10. **Assinale a alternativa que completa, de acordo com a norma culta, as lacunas dos períodos a seguir:**
- I- A empresa surgiu ____ mais de vinte anos.
 - II- Retornarei daqui ____ trinta minutos.
- a) há – há
 - b) há – a
 - c) a – há
 - d) a – a

RACIOCÍNIO LÓGICO

11. Uma piscina mede $5\text{m} \times 5\text{m} \times 2\text{m}$. Se 1m^3 é igual a 1000 litros, podemos afirmar que a capacidade máxima da piscina é de:
a) 10 000 litros b) 17 000 litros c) 50 000 litros d) 170 000 litros
12. Um campo de futebol mede $200\text{m} \times 80\text{m}$. Se para plantar gramas foram compradas caixas com 50m^2 cada caixa, quantas caixas serão necessárias comprar para cobrir todo o campo?
a) 200 caixas b) 208 caixas c) 212 caixas d) 320 caixas
13. A solução da equação, $2x + 2 \cdot (x - 8) = 2x$ é igual a:
a) 0 b) 1 c) 5 d) 8
14. O basquete está presente no Pan-americano desde a primeira edição e é um dos esportes coletivos que mais atraem o público na competição. O Brasil nunca passou em branco, sempre alcançou o pódio em pelo menos uma das categorias, feminina ou masculina. Em um jogo de treino, Celeste fez 20 arremessos e acertou 14, e Olimpia fez 16 arremessos e acertou 10. Representando o rendimento por uma fração na qual o numerador é o número de acertos, e o denominador é o número de arremessos, podemos afirmar que:
a) O rendimento de Celeste foi melhor do que o de Olimpia.
b) O rendimento de Olimpia foi melhor do que o de Celeste.
c) As duas tiveram o mesmo rendimento.
d) Ariani teve rendimento que representa o dobro de Olimpia.
15. Uma TV é medida em polegadas, que representa a medida da diagonal de sua tela. Considerando que uma polegada tenha 25,4mm, podemos afirmar que uma TV de 40 polegadas tem sua diagonal medindo:
a) Mais de um metro e menos de um metro e meio
b) Mais de um metro e meio e menos de dois metros
c) Menos de um metro
d) Exatamente um metro
16. Classificando os seguintes triângulos quanto aos lados teremos na ordem:



- a) Equilátero, isósceles e escaleno
b) Isósceles, escaleno e equilátero
c) Escaleno, equilátero e isósceles
d) Isósceles, equilátero e escaleno

- 23. Qual a sequência para esterilização por processo físico (autoclave):**
- a) Limpeza, secagem, embalagem, descontaminação;
 - b) Descontaminação, limpeza, secagem e embalagem;
 - c) Secagem, limpeza, embalagem e descontaminação;
 - d) Descontaminação, secagem, limpeza e embalagem.
- 24. São materiais restauradores diretos?**
- a) amálgama, resina composta e ionômero de vidro;
 - b) amálgama, resina acrílica e fosfato de zinco;
 - c) cimento de óxido de zinco e eugenol, resina acrílica e hidróxido de cálcio;
 - d) resina acrílica, ionômero de vidro e amálgama.
- 25. Qual dos materiais ou instrumentais abaixo não deve ser esterilizado em estufa?**
- a) pinça para algodão
 - b) caneta de alta rotação
 - c) explorador
 - d) fórceps
- 26. Em relação ao Flúor, a perda mineral líquida é reduzida, uma vez que parte dos minerais perdidos é reposta novamente na estrutura dental. Assim, é comum a descrição de que o fluoreto diminui a desmineralização e ativa a remineralização do esmalte e da dentina. Então, quais materiais abaixo fornecem íons fluoreto para a cavidade bucal?**
- I) água fluoretada;
 - II) Dentifrícios;
 - III) Bochechos;
 - IV) produtos para aplicação profissional;
 - V) materiais odontológicos que liberam fluoreto.
- a) apenas os itens II, III e V;
 - b) somente os itens IV e V;
 - c) todos os itens acima;
 - d) apenas o item I.
- 27. Nas recomendações para uso de fluoretos temos:**
- I) água otimamente fluoretada;
 - II) dentifrício fluoretado (1000-1500ppmF);
 - III) Soluções F para bochechos;
 - IV) Gel, verniz.
- Quais são recomendados para todos os indivíduos e quais são de acordo com o risco ou atividade de cárie?
- a) I e II; III e IV;
 - b) I e III; II e IV;
 - c) III e IV; I e II;
 - d) II e III; I e IV.
- 28. Qual cimento abaixo é usado para cimentação provisória?**
- a) Periodontal;
 - b) Resinoso;
 - c) Óxido de zinco e eugenol;
 - d) Ionômero de vidro.

29. São atribuições do TSB:

- I) fazer remoção do biofilme;
 - II) realizar anestesia local;
 - III) remover suturas;
 - IV) realizar isolamento do campo operatório;
 - V) ensinar técnica de higiene bucal.
- a) Apenas I, II e III estão corretas;
 - b) Apenas a II não está correta;
 - c) Apenas II e III não estão corretas;
 - d) Todas estão corretas.

30. Para o processamento de radiografias odontológicas na câmara escura devemos seguir a seguinte sequência:

- a) revelador, fixador, água;
- b) água, fixador, revelador;
- c) revelador, água, fixador;
- d) fixador, água, revelador.

RASCUNHO